











Counting Dimes

How many coins are in each row? Write the answer in the blue box.
Add the coins up and write the total amount in the pink ¢ box.

	<input type="text"/>	<input type="text"/> ¢
	<input type="text"/>	<input type="text"/> ¢
	<input type="text"/>	<input type="text"/> ¢
	<input type="text"/>	<input type="text"/> ¢
	<input type="text"/>	<input type="text"/> ¢
	<input type="text"/>	<input type="text"/> ¢
	<input type="text"/>	<input type="text"/> ¢
	<input type="text"/>	<input type="text"/> ¢
	<input type="text"/>	<input type="text"/> ¢
	<input type="text"/>	<input type="text"/> ¢